

الفصل الخامس: الغازات وقوانينها

Gases and their laws

تعتبر الغازات احدى حالات المادة الثلاثة



قبل الدراسة لأبد من معرفة بعض المفاهيم

(أ) الضغط: هو القوة المؤثرة على وحدة المساحة

(force) القوة

الضغط (pressure)

$$P = \frac{F}{A}$$

(area) المساحة

(ب) الضغط الجوي (atmospheric pressure):

هو الضغط الناتج عن عمود من الهواء من الطبقات العليا على نقطة على سطح الارض.

(ج) وحدات قياس الضغط

➤ الباسكال (psi):

هو الضغط الناتج عن قوة مقدارها 1 نيوتن على مساحة 1م².

(د) الظروف القياسية للغازات (STP)

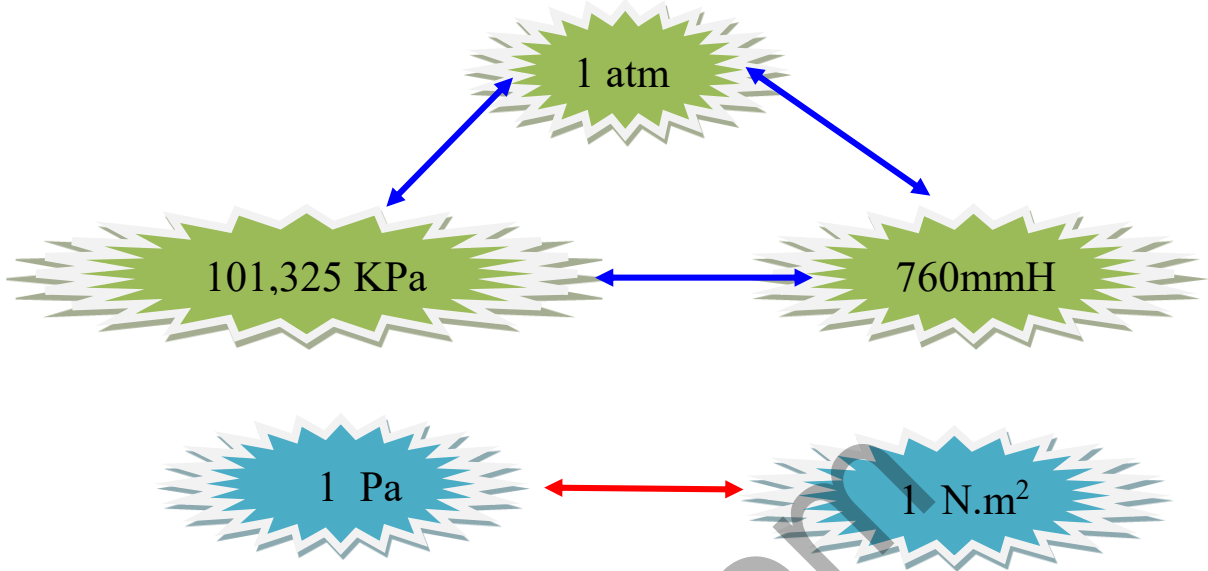
الضغط الجوي = 1 ض جو

درجة الحرارة = صفر⁰م



جهاز البارومتر "يستخدم لقياس الضغط"

(هـ) بعض التحويلات الهامة:



1. نظرية الحركة الجزيئية (Kinetic- Molecular Theory)

تفترض هذه النظرية:

- 1- تتكون الغازات من عدد كبير من الجزيئات المتناهية في الصغر.
- 2- تفصلها مسافات اكبر من حجم الجزيئات نفسها.
- 3- حجم الجزيئات مهمل اذا ما قورن بالحيز الذي يشغله وهذا يفسر انخفاض كثافة الغازات وايضا للانضغاط.
- 4- جزيئات الغاز في حركة مستمرة, وعشوائية في جميع الاتجاهات وفي مسارات مستقيمة وبسرعات مختلفة.
- 5- تصطدم الجزيئات مع بعضها ومع جدار الاناء الحاوي له بتصادم مرن!



التصادم المرن: لا يفقد جزيئات الغاز أي من طاقة حركته ما دامت درجة الحرارة ثابتة.

6- لجزئيات الغاز طاقة حركة نتيجة لحركتها الدائمة والسريعة والعشوائية وتحسب من المعادلة التالي:-

$$KE = \frac{1}{2} mv^2$$

حيث m تمثل كتله الجزئي و v سرعته

➤ تزداد معدل السرعة والطاقة الحركية للغاز مع درجة الحرارة وتقل لانخفاضها.

7- تتغلب الطاقة الحركية للجزئيات على قوى التجاذب بينها وهي ضعيفة جدا ويمكن اهمالها.

قوانين الغازات

(1) **قانون بويل "Boyle's Law"**: "عند ثبوت درجة الحرارة (T) , يتناسب حجم الغاز

(V) تتناسب عكسيا مع الضغط (P) الواقع عليه".

$$V \propto \frac{1}{P}$$

عند ثبوت درجة الحرارة

$$V = \frac{K}{P}$$

$$V P = K$$

حيث K : مقدار ثابت " يعتمد على كمية الغاز ودرجة الحرارة"

V : حجم الغاز

P : الضغط

و عند حساب التغير في حالة الغاز من حالة الى حالة , فتكون العلاقة كالتالي:

$$V_1 P_1 = V_2 P_2$$

(2) **قانون شارل "Charle's Law"**: عند ثبوت الضغط (P) , يتناسب حجم الغاز (V) تتناسب طرديا مع درجة الحرارة المطلقة (°K) .

عند ثبوت الضغط $V \propto T$

$$V = KT$$

$$K = \frac{V}{T}$$

و عند حساب التغير في حالة الغاز من حالة الى حالة , فتكون العلاقة كالتالي:

$$\frac{V_1}{T_2} = \frac{V_2}{T_1}$$

➤ لابد من تحويل درجة الحرارة (t°C) الى كلفن (°K) بإضافة 273.

$$^{\circ}\text{K} = t^{\circ}\text{C} + 273$$

(3) **قانون جاي لوساك Gay - Lussac's Law**

"عند ثبوت الحجم (V) , يتناسب ضغط الغاز (P) تتناسب طرديا مع درجة الحرارة المطلقة (°K)".

$$P = K T$$

$$\frac{P}{T} = K$$

أي أن

و عند حساب التغير في حالة الغاز من حالة الى حالة , فتكون العلاقة كالتالي:

$$\frac{P_1}{T_2} = \frac{P_2}{T_1}$$

(4) قانون الغازات الموحد

عندما يتعرض الغاز للمتغيرات الثلاثة درجة الحرارة, الضغط و الحجم معا, فإنه يتم جمعهم في العلاقة الرياضية الآتية:-

$$\frac{PV}{T} = K.$$

هو عند حساب التغير في حالة الغاز من حالة الى حالة , فتكون العلاقة كالتالي:

$$\frac{P_1V_1}{T_2} = \frac{P_2V_2}{T_1}$$

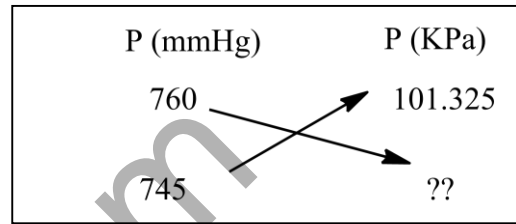
afidni.com

المسائل على باب الغازات

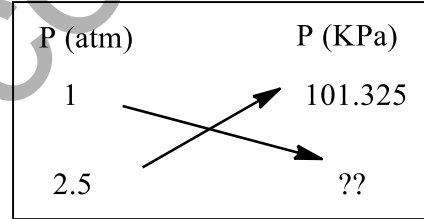
(1) عبر عن قيم الضغط الآتية بوحدة الكيلو باسكال KPa
(أ) 745 mmHg
(ب) 2.5 atm

الإجابة

$$P = \frac{745 \times 101.325}{760} = 99.3 \text{ KPa}$$



$$P = \frac{2.5 \times 101.325}{1} = 253.3 \text{ KPa}$$



اختبر فهمك (1):

يلج متوسط الضغط الجوي في مدينة مسقط 0.830 atm ، عبر عن هذا الضغط بوحدة كل من :

أ- mmHg ب- kPa ج- torr

$$\text{أ- الضغط بوحدة mm Hg} = 760 \text{ mm Hg} \times 0.830 \text{ atm} / 1 \text{ atm} =$$

$$630.8 \text{ mm Hg} =$$

$$\text{ب- الضغط بوحدة kPa} = 101.325 \text{ kPa} \times 0.830 \text{ atm} / 1 \text{ atm} =$$

$$84.0 \text{ kPa} =$$

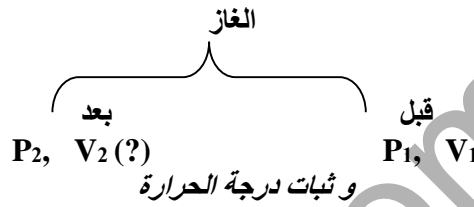
$$\text{ج- الضغط بوحدة torr} = 760 \text{ torr} \times 0.830 \text{ atm} / 1 \text{ atm} =$$

$$630.8 \text{ torr} =$$

(2) قانون بویل

(1) منطاد على ارتفاع عال يحتوي على 30L من غاز الهليوم عند ضغط 103 KPa. ما حجم الغاز في المنطاد عندما يكون على ارتفاع قيمه ضغطه 25 KPa فقط؟ (افترض ان درجة الحرارة تظل ثابتة).

نلاحظ ان:



الحل

المعطيات

$$P_2 = 25 \text{ KPa}$$

المطلوب:

$$V_2 = ??? \text{ L}$$

$$V_1 = 30 \text{ L}$$

$$P_1 = 103 \text{ KPa}$$

$$\therefore P_1 V_1 = P_2 V_2$$

$$V_2 = \frac{P_1 V_1}{P_2} = \frac{30 \times 103}{25} = 123.6 \text{ L}$$

(2) في مركبه ما تتروجينيوچد عينة من غاز النيتروجين في وسادة هوائية حجمها 65L تحت ضغط 745 mmHg. فإذا نقلت هذه العينة من الغاز الى وسادة اخرى حجمها 25 L, كم تكون قيمة ضغط الغاز المحصور في هذه الحالة بوحدة KPa؟ (افترض ان درجة الحرارة تظل ثابتة).

المعطيات

$$V_2 = 25 \text{ L}$$

المطلوب:

$$P_2 = ??? \text{ KPa}$$

$$P_1 = 745 \text{ mmHg}$$

$$V_1 = 65 \text{ L}$$

الحل

$$\therefore P_1 V_1 = P_2 V_2$$

$$P_2 = \frac{P_1 V_1}{V_2} = \frac{65 \times 745}{25} = 1937 \text{ mmHg}$$

$$P_2 = \frac{1937 \times 101.325}{760} = 258.3 \text{ KPa}$$

لتحويل الضغط	
P (mmHg)	P (KPa)
760	101.325
1937	??

اختبر فهمك (2):

- 1- تلاحظ أن أكياس البطاطس الجاهزة تبدو وكأنها متفخخة عند تعرضها لأشعة الشمس، فسّر ذلك في ضوء نظرية الحركة الجزيئية .
- 2- أي فروض النظرية الحركية الجزيئية يفسر استخدام الأكياس الهوائية في السيارات لحماية السائقين والركاب عند حدوث الاصطدامات الناجمة عن حوادث السيارات ؟

1- لأن الهواء في داخل الكيس يتمدد بارتفاع درجة الحرارة، فيؤثر بضغط أكبر على جدران الكيس، مما يسبب انتفاخها.

2- الفرضان الأول والثاني يشيران إلى وجود مسافات كبيرة تفصل بين جزيئات الغاز، مما يجعلها قابلة للانضغاط.

اختبر فهمك (٣):

١- كمية من غاز التخذير عند درجة حرارة (20°C) حجمها (2.5L) داخل محقن يتحكم فيه مكبس حرارية، فإذا انخفض الضغط داخل المحقن من (105 kPa) إلى (40.5 kPa) ، عند ثبات درجة الحرارة. احسب الحجم النهائي للغاز .
٢- بالون مليء بغاز الهيليوم حجمه (500 mL) ، تحت ضغط 1 atm ، أطلق البالون ووصل إلى ارتفاع (6.5 km) ، حيث يصبح الضغط (0.5 atm) ، ما الحجم الذي يأخذه الغاز عند هذا الارتفاع بوحدة اللتر. مفترضا ثبات درجة الحرارة.

-١

المعطيات:

$$V_1 = 2.5L$$

$$P_1 = 105kPa$$

$$P_2 = 40.5kPa$$

$$V_2 = ?$$

الحل:

$$V_2 = P_1 V_1 / P_2$$

$$= 105kPa \times 2.5L / 40.5kPa$$

$$= 6.5 L$$

٢- المعطيات :

$$V_1 = 500mL$$

$$P_1 = 1 atm$$

$$P_2 = 0.5 atm$$

$$V_2 = ?$$

الحل:

$$V_2 = P_1 V_1 / P_2$$

$$500mL \times 1atm / 0.5atm$$

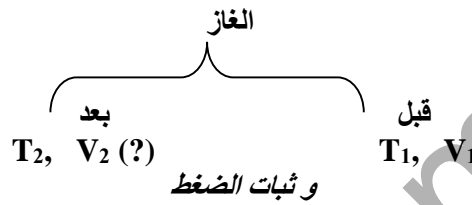
$$= 1,000mL$$

$$= 1L$$

(3) قانون شارل

تم تسخين أسطوانة لغاز النيتروجين مع مكبس متحرك لدرجة حرارة 315 فإذا كان حجم الغاز في الاسطوانة يساوي 0.3L عند درجة حرارة 25°C, احسب الحجم النهائي للغاز عند درجة حرارة 315°C?

نلاحظ ان:



الحل

المعطيات

$$T_2 = 315 + 273 = 588 \text{ K}$$

المطلوب:

$$V_2 = ??? \text{ L}$$

$$V_1 = 0.3 \text{ L}$$
$$T_1 = 25 + 273 = 298 \text{ K}$$

$$\frac{V_1}{T_1} = \frac{V_2}{T_2}$$

$$V_2 = \frac{V_1 T_2}{T_1} = \frac{0.3 \times 588}{298} = 0.59 \text{ L}$$

اختبر فهمك (٤):

- ١- یحتوي بالون علی (500 cm³) عند درجة حرارة (27°C)، ما حجم البالون إذا أدخل في براد عند درجة حرارة (-18°C)؟
- ٢- في صباح يوم بارد (10°C)، قام أحد الطلاب بملء بالون بالهواء، وبعد أن امتلأ البالون إلى مستوى $\frac{3}{4}$ من حجمه، قام بتسخين الهواء حتى امتلأ البالون متخذاً أقصى سعة له وهي (1700 cm³). ما درجة حرارة الهواء السيليزية في البالون عند هذه السعة؟ (افترض أن ضغط الهواء وكميته ثابتة منذ بدء التسخين).
- ٣- فسر قانون شارل في ضوء النظرية الحركية الجزيئية.
- ٤- لماذا يستخدم مقياس الحرارة المطلقة في حسابات قوانين الغازات عوضاً عن مقياس الدرجات السيليزية؟

(1)

المعطيات:

$$V_1 = 500 \text{ cm}^3$$
$$T_1 = 27^\circ \text{C}$$
$$T_2 = -18^\circ \text{C}$$

المطلوب:

$$V_2 = ?$$

الحل:

$$V_2 = V_1 T_2 / T_1$$
$$= 500 \text{ cm}^3 \times 255 \text{ K} / 300 \text{ K}$$
$$= 425 \text{ cm}^3$$

(2)

المعطيات:

$$T_1 = 10^\circ \text{C}$$
$$V_1 = 3/4 \times 1700 \text{ cm}^3 = 1275 \text{ cm}^3$$
$$V_2 = 1700 \text{ cm}^3$$
$$T_2 = ?$$

الحل:

$$T_2 = T_1 V_2 / V_1$$
$$= 283 \text{ K} \times 1700 \text{ cm}^3 / 1275 \text{ cm}^3$$
$$= 377 \text{ K}$$
$$= 104^\circ \text{C}$$

٣- في ضوء فروض نظرية الحركة الجزيئية، فإن ارتفاع درجة الحرارة، يؤدي إلى زيادة طاقة حركة الجزيئات ، مما يزيد من عدد التصادمات بينها، فيزيد الضغط الداخلي للغاز، فتدفع جزيئات الغاز لتشغل حجما أكبر.

٤- لأنه قد يتج عن القياس بالدرجات السليزية وجود درجات حرارة تأخذ قيما سالبة، مما قد يؤدي إلى ظهور حجوم سالبة في بعض الحسابات، وهذه غير ممكن، ولذلك تستخدم درجات الحرارة بالكلفن لأنها تستخدم الأعداد الموجبة فقط للدلالة على درجات الحرارة.

(4) قانون جاي لو ساك

إذا كانت درجة حرارة صهريج يحتوي على غاز الأرجون في الليل 18°C ، وكان ضغط الغاز عند هذه الدرجة يعادل 875KPa ، ما قيمة ضغط الغاز خلال فترة النهار إذا ارتفعت درجة حرارة الغاز في الصهريج الى 32°C ؟ (افترض ثبوت حجم الصهريج وكمية الغاز).

نلاحظ ان:



المعطيات

$$T_2 = 32 + 273 = 305 \text{ K}$$

المطلوب:

$$P_2 = ??? \text{ PKa}$$

$$T_1 = 18 + 273 = 291 \text{ K}$$

$$P_1 = 875 \text{ KPa}$$

$$\frac{P_1}{T_1} = \frac{P_2}{T_2}$$

$$P_2 = \frac{P_1 T_2}{T_1} = \frac{875 \times 305}{291} = 917 \text{ KPa}$$

اختبر فهمك (0):

١- فسّر: تكون إطارات السيارات (لا سيما المتهالكة) عرضة للانفجار في أيام الصيف الحارة.
٢- عينة من غاز الهيليوم، يبلغ ضغطها 1.2 atm ، عند درجة حرارة 22°C . ما درجة الحرارة المثوية التي يصل عندها الهيليوم إلى ضغط 2.0 atm ؟

١- وذلك لأن ارتفاع درجة حرارة الطرقات في أيام الصيف الحارة يؤدي إلى ارتفاع درجة حرارة الهواء في إطارات السيارات، مما يزيد من طاقة حركة الجزيئات، وهذا بدوره يؤدي إلى تضاعف ضغط الغاز المحبوس في الإطار، مما يجعل هذه الإطارات عرضة للانفجار.

٢- المعطيات:

$$P_1 = 1.2 \text{ atm}$$

$$P_2 = 2.0 \text{ atm}$$

$$T_1 = 22^\circ\text{C}$$

المطلوب:

$$T_2 = ?$$

الحل:

$$T_2 = P_2 T_1 / P_1$$

$$= 2.0 \text{ atm} \times 295 \text{ K} / 1.2 \text{ atm}$$

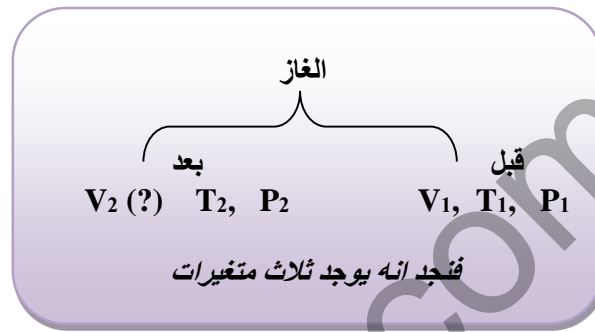
$$= 492 \text{ K}$$

$$= 219^\circ\text{C}$$

(5) قانون الغازات الموحد

(1) بالون ملئ بالهليوم حجمة 50L عند درجة حرارة 25°C وتحت ضغط 1.08 atm ما حجم البالون , عندما يصبح الضغط 0.855 atm ودرجة الحرارة 10°C؟

نلاحظ ان:



الحل

المعطيات

$$\begin{aligned} T_2 &= 10 + 273 = 283 \text{ K} \\ P_2 &= 0.855 \text{ atm} \\ V_2 &= ?? \text{ L} \end{aligned}$$

المطلوب:

$$\begin{aligned} V_1 &= 50 \text{ L} \\ T_1 &= 25 + 273 = 298 \text{ K} \\ P_1 &= 1.05 \text{ atm} \end{aligned}$$

بتطبيق القانون

$$\frac{P_1 V_1}{T_1} = \frac{P_2 V_2}{T_2}$$

$$\therefore P_1 V_1 T_2 = P_2 V_2 T_1$$

$$V_2 \text{ (الهليوم)} = \frac{P_1 V_1 T_2}{P_2 T_1} = \frac{1.08 \times 50 \times 283}{0.855 \times 298} = 60 \text{ L}$$

(2) عينة هواء حجمها 5L عند درجة حرارة -50°C و عند ضغط 107 KPa , كم يصبح الضغط الجديد عند ارتفاع الحرارة 102°C , وتمدد الحجم الى 7L?

الحل

المعطيات

$$\begin{aligned}T_2 &= 102 + 273 = 375 \\V_1 &= 1.05 \text{ atm} \\P_2 &= ?? \text{ L}\end{aligned}$$

المطلوب:

$$\begin{aligned}V_1 &= 5 \text{ L} \\T_2 &= -50 + 273 = 223 \\P_1 &= 107 \text{ KPa}\end{aligned}$$

بتطبيق القانون

$$\frac{P_1 V_1}{T_2} = \frac{P_2 V_2}{T_1}$$

$$\therefore P_1 V_1 T_2 = P_2 V_2 T_1$$

$$P_2 = \frac{P_1 V_1 T_2}{T_1} = \frac{107 \times 5 \times 375}{7 \times 223} = 128.5 \text{ KPa}$$

اختبر فهمك (٦):

- ١- يمكن الحصول على أي من قوانين الغازات الثلاثة من قانون الغازات الموحد، في حال تم تثبيت المتغير المناسب (أثبت ذلك؟)
- ٢- ما الضغط اللازم لتقليص حجم (60 mL) من غاز تحت الظروف القياسية إلى 10 mL عند درجة حرارة مقدارها 25°C؟
- ٣- عينة من غاز الأرجون حجمها (100 mL) عند درجة حرارة (35°C) وتحت ضغط (760 torr) ما درجة الحرارة اللازمة لخفض ضغط نفس الغاز إلى (720 torr) ، ولزيادة حجمه إلى (200 mL)؟

١- يمكن الحصول على أي من قوانين الغازات الثلاثة من القانون الموحد للغازات $P_1V_1/T_1 = P_2V_2/T_2$ ، وذلك بتثبيت المتغير المناسب في كل حالة:

فمثلا عند تثبيت درجة الحرارة، تختصر (T) من طرفي المعادلة العامة للقانون، وبذلك نحصل على قانون بويل:

$$P_1V_1 = P_2V_2$$

وفي حالة تثبيت متغير الضغط، تختصر (P) من طرفي المعادلة، فنحصل على قانون شارل:

$$V_1/T_1 = V_2/T_2$$

وعند إبقاء الحجم ثابتا، تختصر قيمة (V) من طرفي المعادلة، وبذلك نحصل على قانون حاي لوساك:

$$P_1/T_1 = P_2/T_2$$

٢- المعطيات:

$$V_1 = 60 \text{ mL}$$

$$V_2 = 10 \text{ mL}$$

$$T_1 = 0^\circ \text{C}$$

$$T_2 = 25^\circ \text{C}$$

$$P_1 = 101.325 \text{ kPa}$$

المطلوب

$$P_2 = ?$$

الحل:

$$P_2 = P_1 V_1 T_2 / V_2 T_1$$
$$= 101,325 \text{ atm} \times 60 \text{ mL} \times 298 \text{ K} / 10 \text{ mL} \times 273 \text{ K}$$
$$= 663.6 \text{ kPa}$$
$$= 6.55 \text{ atm}$$

٣- المعطيات:

$$V_1 = 100 \text{ mL}$$

$$V_2 = 200 \text{ mL}$$

$$P_1 = 760 \text{ torr}$$

$$P_2 = 720 \text{ torr}$$

$$T_1 = 35 \text{ }^\circ\text{C}$$

المطلوب:

$$T_2$$

الحل:

$$T_2 = P_2 V_2 T_1 / P_1 V_1$$
$$= 720 \text{ torr} \times 200 \text{ mL} \times 308 \text{ K} / 760 \text{ torr} \times 100 \text{ mL}$$
$$= 584 \text{ K}$$
$$= 311 \text{ }^\circ\text{C}$$